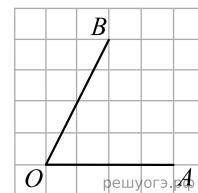
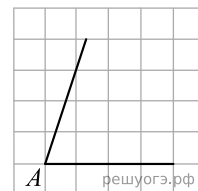


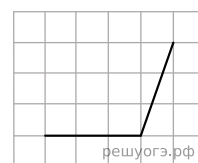
1. Найдите тангенс угла AOB , изображенного на рисунке.



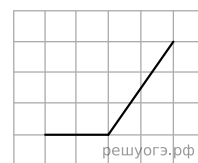
2. На квадратной сетке изображен угол A . Найдите $\operatorname{tg} A$.



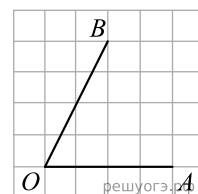
3. Найдите тангенс угла, изображенного на рисунке.



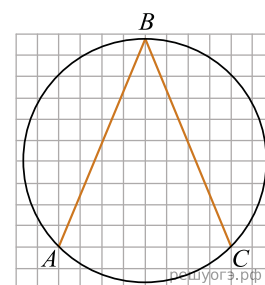
4. Найдите тангенс угла, изображенного на рисунке.



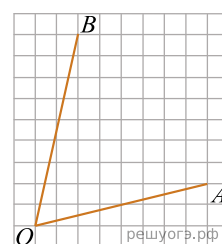
5. Найдите тангенс угла AOB , изображенного на рисунке.



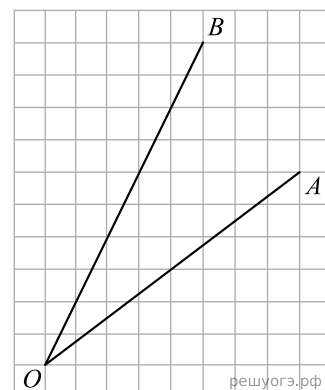
6. Найдите угол ABC . Ответ дайте в градусах.



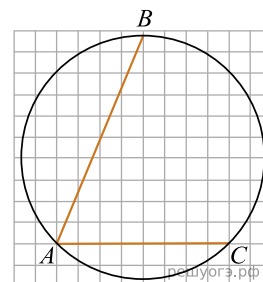
7. Найдите тангенс угла AOB .



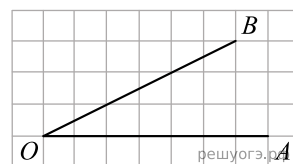
8. Найдите тангенс угла AOB . Размер клетки 1×1 .



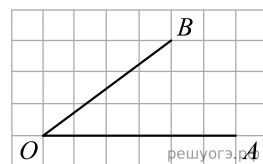
9. Найдите угол BAC . Ответ дайте в градусах.



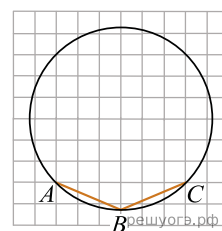
10. Найдите тангенс угла AOB , изображенного на рисунке.



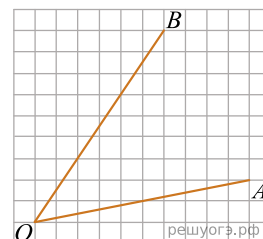
11. Найдите тангенс угла AOB , изображенного на рисунке.



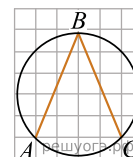
12. Найдите угол ABC . Ответ дайте в градусах.



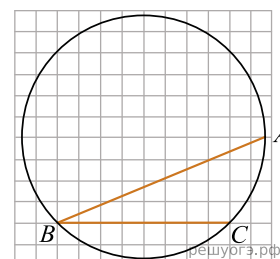
13. Найдите тангенс угла AOB



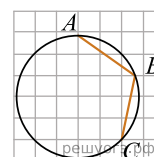
14. Найдите угол ABC . Ответ дайте в градусах.



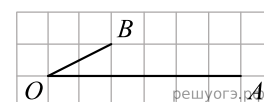
15. Найдите угол ABC . Ответ дайте в градусах.



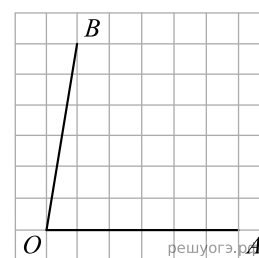
16. Найдите угол ABC . Ответ дайте в градусах.



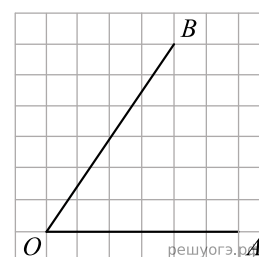
17. Найдите тангенс угла AOB , изображенного на рисунке.



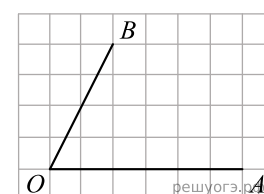
18. Найдите тангенс угла AOB , изображенного на рисунке.



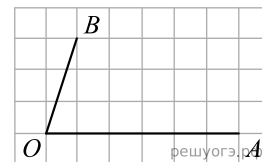
19. Найдите тангенс угла AOB , изображенного на рисунке.



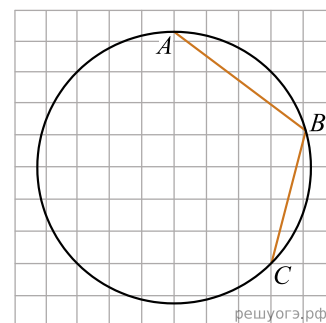
20. Найдите тангенс угла AOB , изображенного на рисунке.



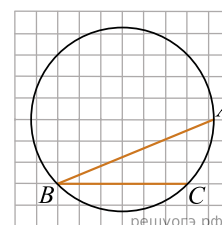
21. Найдите тангенс угла AOB , изображенного на рисунке.



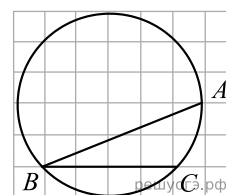
22. Найдите угол ABC .



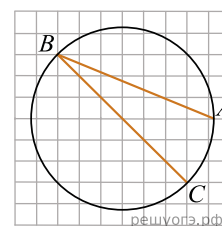
23. Найдите угол ABC . Ответ дайте в градусах.



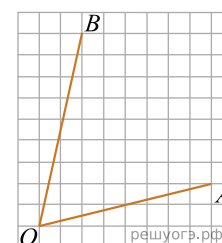
24. Найдите угол ABC



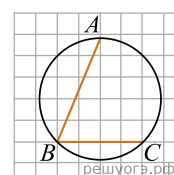
25. Найдите угол ABC . Ответ дайте в градусах.



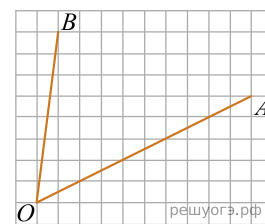
26. Найдите тангенс угла AOB



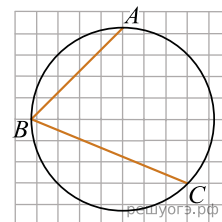
27. Найдите угол ABC . Ответ дайте в градусах.



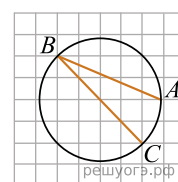
28. Найдите тангенс угла AOB



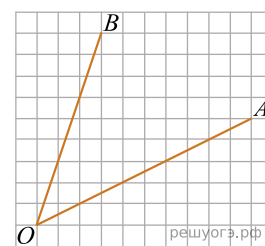
29. Найдите угол ABC . Ответ дайте в градусах.



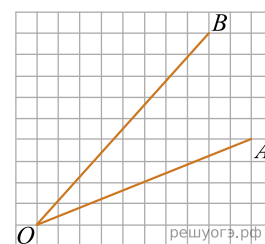
30. Найдите угол ABC . Ответ дайте в градусах.



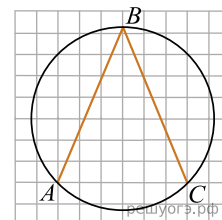
31. Найдите тангенс угла AOB



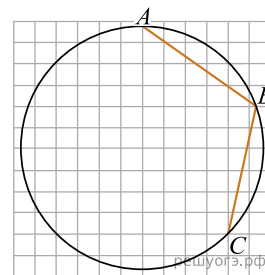
32. Найдите тангенс угла AOB



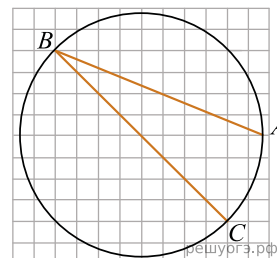
33. Найдите угол ABC . Ответ дайте в градусах.



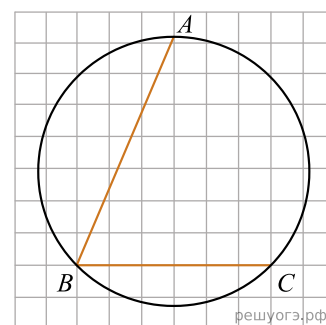
34. Найдите угол ABC . Ответ дайте в градусах.



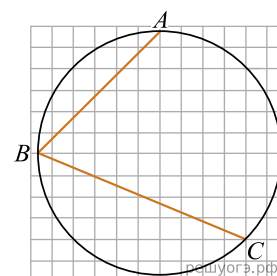
35. Найдите угол ABC . Ответ дайте в градусах.



36. Найдите угол ABC . Ответ дайте в градусах.



37. Найдите угол ABC . Ответ дайте в градусах.



38. Найдите тангенс угла AOB

