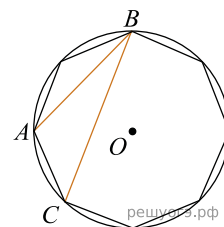
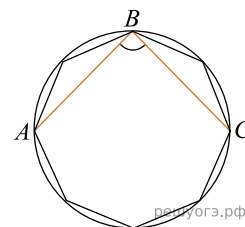


1. В окружность вписан равносторонний восьмиугольник. Найдите величину угла ABC .



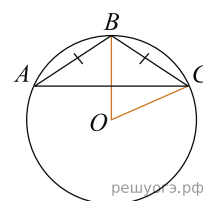
2. В окружность вписан равносторонний восьмиугольник. Найдите величину угла ABC .



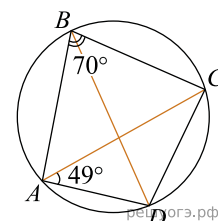
3. Четырехугольник $ABCD$ вписан в окружность. Угол ABC равен 136° , угол CAD равен 82° . Найдите угол ABD . Ответ дайте в градусах.

4. Боковая сторона равнобедренного треугольника равна 4. Угол при вершине, противолежащий основанию, равен 120° . Найдите диаметр окружности, описанной около этого треугольника.

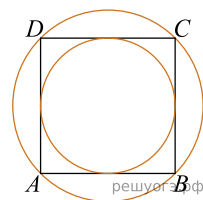
5. Окружность с центром в точке O описана около равнобедренного треугольника ABC , в котором $AB = BC$ и $\angle ABC = 177^\circ$. Найдите величину угла BOC . Ответ дайте в градусах.



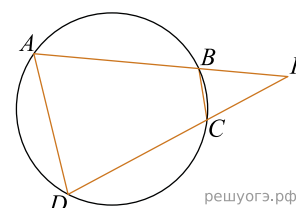
6. Четырехугольник $ABCD$ вписан в окружность. Угол ABC равен 70° , угол CAD равен 49° . Найдите угол ABD . Ответ дайте в градусах.



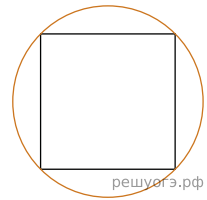
7. Радиус вписанной в квадрат окружности равен $2\sqrt{2}$. Найдите радиус окружности, описанной около этого квадрата.



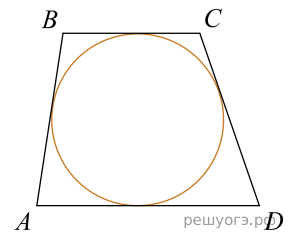
8. Четырехугольник $ABCD$ вписан в окружность. Прямые AB и CD пересекаются в точке K , $BK = 8$, $DK = 12$, $BC = 6$. Найдите AD .



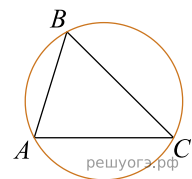
9. Радиус окружности, описанной около квадрата, равен $16\sqrt{2}$. Найдите длину стороны этого квадрата.



10. Трапеция $ABCD$ с основаниями AD и BC описана около окружности, $AB = 11$, $BC = 6$, $CD = 9$. Найдите AD .



11. В треугольнике ABC угол C равен 45° , $AB = 6\sqrt{2}$. Найдите радиус окружности, описанной около этого треугольника.



12. Точка O является серединой стороны CD квадрата $ABCD$. Радиус окружности с центром в точке O , проходящей через вершину A , равен 5. Найдите площадь квадрата $ABCD$.

