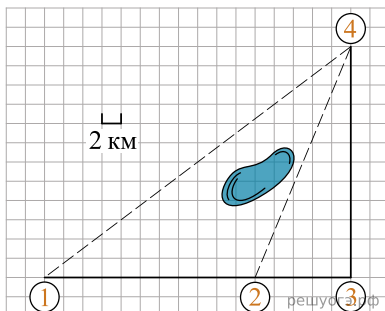


Полина летом отдыхает у бабушки в деревне Ясная. В четверг они собираются съездить на велосипедах в село Майское в магазин. Из деревни Ясная в село Майское можно проехать по прямой лесной дорожке. Есть более длинный путь: по прямолинейному шоссе через деревню Камышевка до деревни Хомяково, где нужно повернуть под прямым углом налево на другое шоссе, ведущее в село Майское. Есть и третий маршрут: в деревне Камышевка можно свернуть на прямую тропинку в село Майское, которая идет мимо пруда.

Лесная дорожка и тропинка образуют с шоссе прямоугольные треугольники.



По шоссе Полина с бабушкой едут со скоростью 20 км/ч, а по лесной дорожке и тропинке — со скоростью 15 км/ч. На плане изображено взаимное расположение населенных пунктов, длина стороны каждой клетки равна 2 км.

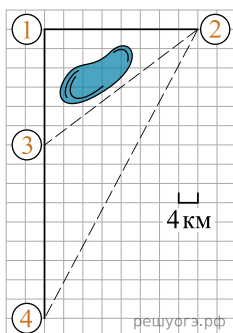
1. В таблице указана стоимость (в рублях) некоторых продуктов в четырех магазинах, расположенных в деревне Ясная, селе Майское, деревне Камышевка и деревне Хомяково.

Наименование продукта	д. Ясная	с. Майское	д. Камышевка	д. Хомяково
Молоко (1 л)	42	38	41	33
Хлеб (1 батон)	25	21	29	30
Сыр «Российский» (1 кг)	310	320	290	280
Говядина (1 кг)	340	380	410	390
Картофель (1 кг)	15	20	17	18

Полина с бабушкой хотят купить 2 л молока, 3 кг говядины и 2 кг картофеля. В каком магазине такой набор продуктов будет стоить дешевле всего? В ответ запишите стоимость данного набора в этом магазине.

Володя летом отдыхает у бабушки в деревне Елочки. В воскресенье они собираются съездить на машине в село Кленовое. Из деревни Елочки в село Кленовое можно проехать по прямой грунтовой дороге. Есть более длинный путь: по прямолинейному шоссе через деревню Сосенки до деревни Жуки, где нужно повернуть под прямым углом направо на другое шоссе, ведущее в село Кленовое. Есть и третий маршрут: в деревне Сосенки можно свернуть на прямую грунтовую дорогу в село Кленовое, которая идет мимо пруда.

Шоссе и грунтовые дороги образуют прямоугольные треугольники.



По шоссе Володя с бабушкой едут со скоростью 80 км/ч, а по грунтовой дороге — со скоростью 40 км/ч. На плане изображено взаимное расположение населенных пунктов, длина стороны каждой клетки равна 4 км.

2. В таблице указана стоимость (в рублях) некоторых продуктов в четырех магазинах, расположенных в деревне Елочки, селе Кленовое, деревне Сосенки и деревне Жуки.

Наименование продукта	д. Елочки	с. Кленовое	д. Сосенки	д. Жуки
Молоко (1 л)	42	45	38	43

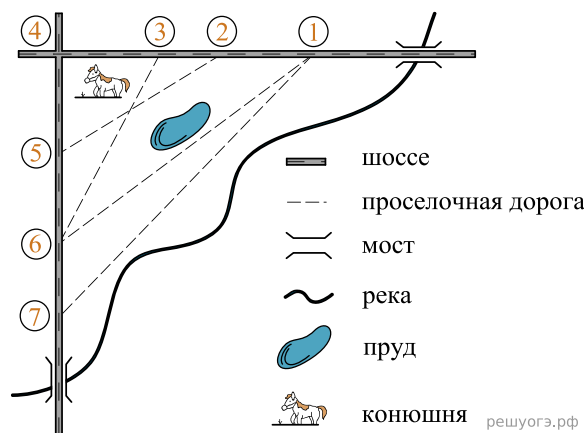
Сыр «Российский» (1 кг)	320	290	270	280
Говядина (1 кг)	410	420	450	430
Картофель (1 кг)	26	18	24	16

Володя с дедушкой хотят купить 5 л молока, 3 кг сыра «Российский» и 4 кг картофеля. В каком магазине такой набор продуктов будет стоить дешевле всего? В ответ запишите стоимость данного набора в этом магазине.

На рисунке изображен план сельской местности.

Таня на летних каникулах приезжает в гости к дедушке в деревню Антоновка (на плане обозначена цифрой 1). В конце каникул дедушка на машине собирается отвезти Таню на автобусную станцию, которая находится в деревне Богданово. Из Антоновки в Богданово можно проехать по проселочной дороге мимо реки. Есть другой путь — по шоссе до деревни Ванютино, где нужно повернуть под прямым углом налево на другое шоссе, ведущее в Богданово. Третий маршрут проходит по проселочной дороге мимо пруда до деревни Горюново, где можно свернуть на шоссе до Богданово. Четвертый маршрут пролегает по шоссе до деревни Доломино, от Доломино до Горюново по проселочной дороге мимо конюшни и от Горюново до Богданово по шоссе. Еще один маршрут проходит по шоссе до деревни Егорка, по проселочной дороге мимо конюшни от Егорки до Жилино и по шоссе от Жилино до Богданово.

Шоссе и проселочные дороги образуют прямоугольные треугольники.



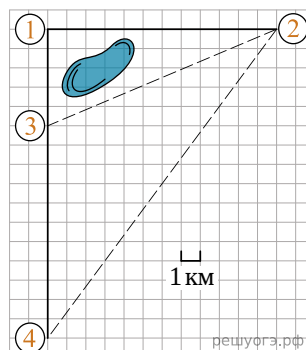
По шоссе Таня с дедушкой едут со скоростью 50 км/ч, а по проселочным дорогам — со скоростью 30 км/ч. Расстояние от Антоновки до Доломино равно 12 км, от Доломино до Егорки — 4 км, от Егорки до Ванютино — 12 км, от Горюново до Ванютино — 15 км, от Ванютино до Жилино — 9 км, а от Жилино до Богданово — 12 км.

3. На проселочных дорогах машина дедушки расходует 9,2 литра бензина на 100 км. Известно, что на путь из Антоновки до Богданово через Ванютино, как и на путь через Доломино и Горюново мимо конюшни ей необходим один и тот же объем бензина. Сколько литров бензина на 100 км машина дедушки расходует на шоссе?

Саша летом отдыхает у дедушки в деревне Васильково. В субботу они собираются съездить на велосипедах в село Иваново в магазин.

Из деревни Васильково в село Иваново можно проехать по прямой лесной дорожке. Есть более длинный путь: по прямолинейному шоссе через деревню Камышино до деревни Журавушка, где нужно повернуть под прямым углом направо на другое шоссе, ведущее в село Иваново. Есть и третий маршрут: в деревне Камышино можно свернуть на прямую тропинку в село Иваново, которая идет мимо пруда.

Лесная дорожка и тропинка образуют с шоссе прямоугольные треугольники.



По шоссе Саша с дедушкой едут со скоростью 20 км/ч, а по лесной дорожке и тропинке — со скоростью 15 км/ч. На плане изображено взаимное расположение населенных пунктов, длина стороны каждой клетки равна 1 км.

4. В таблице указана стоимость (в рублях) некоторых продуктов в четырех магазинах, расположенных в деревне Васильково, селе Иваново, деревне Камышино и деревне Журавушка.

Наименование продукта	д. Васильково	с. Иваново	д. Камышино	д. Журавушка
Молоко (1 л)	35	34	33	31
Хлеб (1 батон)	28	25	30	24
Сыр «Российский» (1 кг)	270	260	310	220
Говядина (1 кг)	390	420	400	380
Картофель (1 кг)	16	24	20	22

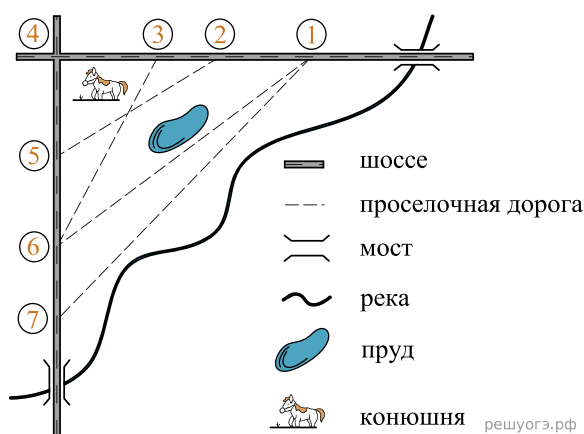
Саша с дедушкой хотят купить 2 л молока, 3 кг говядины и 2 кг картофеля. В каком магазине такой набор продуктов будет стоить дешевле всего?

В ответ запишите стоимость данного набора в этом магазине.

На рисунке изображен план сельской местности.

Таня на летних каникулах приезжает в гости к дедушке в деревню Антоновку (на плане обозначена цифрой 1). В конце каникул дедушка на машине собирается отвезти Таню на автобусную станцию, которая находится в деревне Богданово. Из Антоновки в Богданово можно проехать по проселочной дороге вдоль реки. Есть другой путь — по шоссе до деревни Ванютино, где нужно повернуть под прямым углом налево на другое шоссе, ведущее в Богданово. Третий маршрут проходит по проселочной дороге мимо пруда до деревни Горюново, где можно свернуть на шоссе до Богданово. Четвертый маршрут пролегает по шоссе до деревни Доломино, от Доломино до Горюново по проселочной дороге мимо конюшни и от Горюново до Богданово по шоссе. Еще один маршрут проходит по шоссе до деревни Егорки, по проселочной дороге мимо конюшни от Егорки до Жилино и по шоссе от Жилино до Богданово.

Шоссе и проселочные дороги образуют прямоугольные треугольники.



По шоссе Таня с дедушкой едут со скоростью 50 км/ч, а по проселочным дорогам — со скоростью 30 км/ч. Расстояние от Антоновки до Доломино равно 12 км, от Доломино до Егорки — 4 км, от Егорки до Ванютино — 12 км, от Горюново до Ванютино — 15 км, от Ванютино до Жилино — 9 км, а от Жилино до Богданово 12 км.

5. На проселочных дорогах машина дедушки расходует 8,2 литра бензина на 100 км. Известно, что на путь из Антоновки до Богданово через Ванютино и путь напрямик ей необходим один и тот же объем бензина. Сколько литров бензина на 100 км машина дедушки расходует на шоссе?