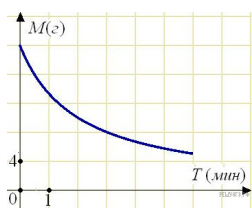
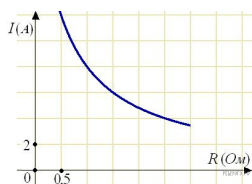


1. В ходе химической реакции количество исходного вещества (реагента), которое еще не вступило в реакцию, со временем постепенно уменьшается. На рисунке эта зависимость представлена графиком. На оси абсцисс откладывается время в минутах, прошедшее с момента начала реакции, на оси ординат — масса оставшегося реагента, который еще не вступил в реакцию (в граммах). Определите по графику, сколько граммов реагента вступило в реакцию за три минуты?

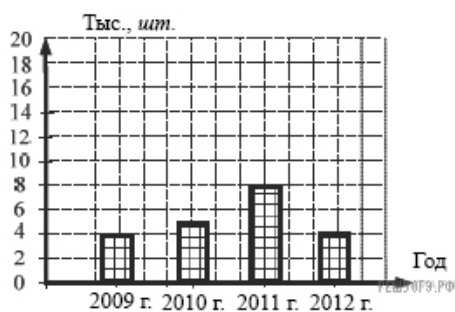


2. Мощность отопителя в автомобиле регулируется дополнительным сопротивлением, которое можно менять, поворачивая рукоятку в салоне машины. При этом меняется сила тока в электрической цепи электродвигателя – чем меньше сопротивление, тем больше сила тока и тем быстрее вращается мотор отопителя. На рисунке показана зависимость силы тока от величины сопротивления. На оси абсцисс откладывается сопротивление (в Омах), на оси ординат — сила тока в Амперах. Ток в цепи электродвигателя уменьшился с 8 до 6 Ампер. На сколько Оммов при этом увеличилось сопротивление цепи?



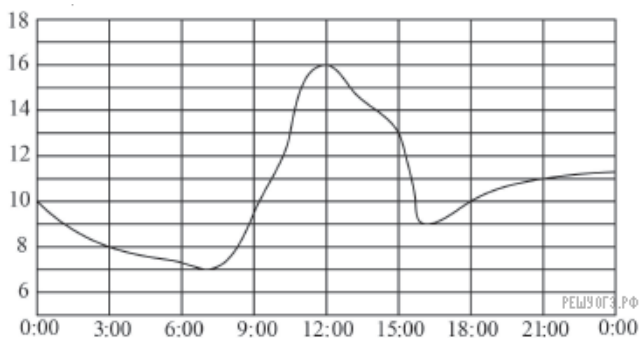
3. На диаграмме показано количество посаженных деревьев и кустарников в г. Сочи за период с 2009 по 2012 гг. Определите, сколько всего было посажено зеленых насаждений за 2011 г. и 2012 г.?

В ответе укажите номер правильного варианта.

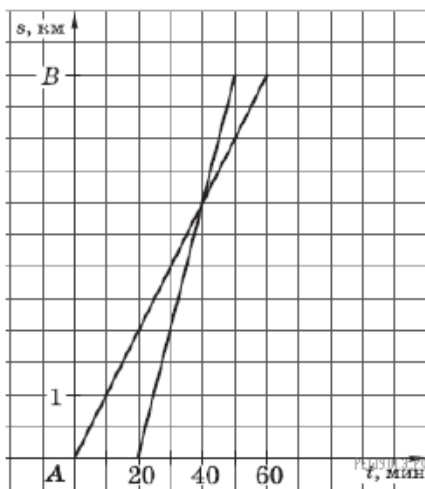


- 1) 10 000
- 2) 4000
- 3) 12 000
- 4) 8000

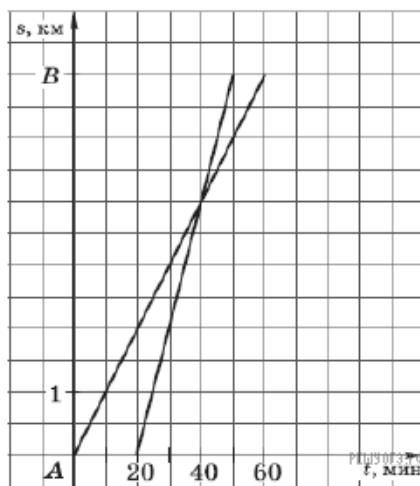
4. На рисунке показано, как изменялась температура воздуха на протяжении одних суток. По горизонтали указано время суток, по вертикали — значение температуры в градусах Цельсия. Найдите разность между наибольшим и наименьшим значением температуры в первой половине этих суток. Ответ дайте в градусах Цельсия.



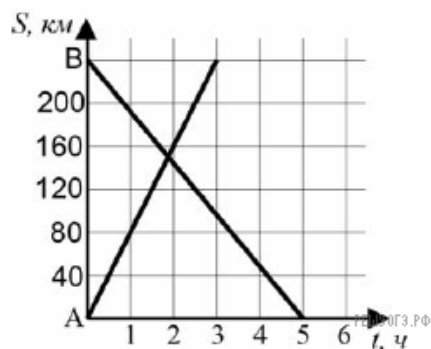
5. Из пункта A в пункт B вышел пешеход, и через некоторое время вслед за ним выехал велосипедист. На рисунке изображены графики движения пешехода и велосипедиста. На сколько километров в час скорость пешехода меньше скорости велосипедиста?



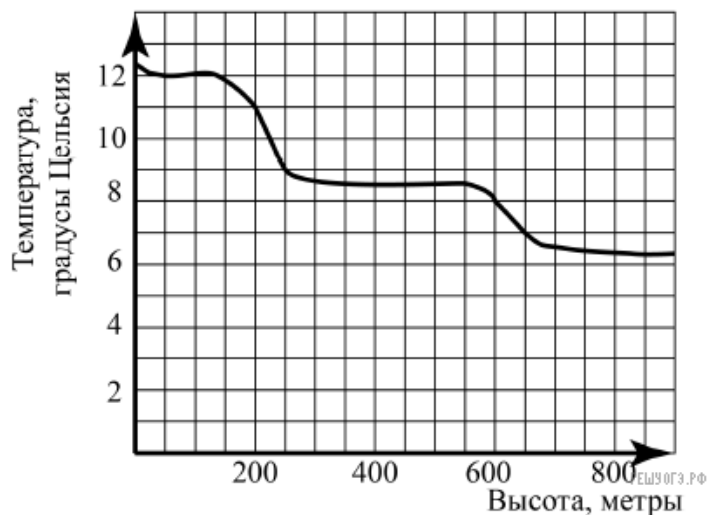
6. Из пункта A в пункт B вышел пешеход, и через некоторое время вслед за ним выехал велосипедист. На рисунке изображены графики движения пешехода и велосипедиста. На сколько минут меньше затратил на путь из A в B велосипедист, чем пешеход?



7. На рисунке изображен график движения автомобиля из пункта A в пункт B и автобуса из пункта B в пункт A . На сколько километров в час скорость автомобиля больше скорости автобуса?

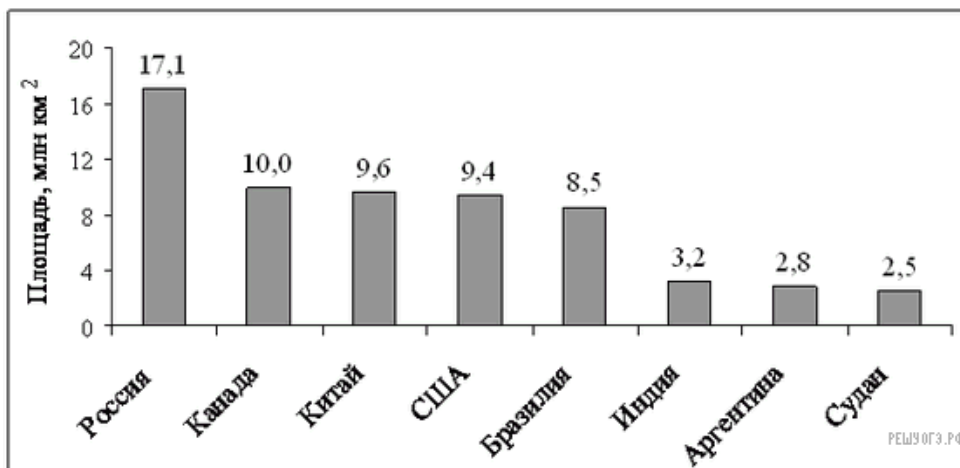


8. На рисунке изображена зависимость температуры (в градусах Цельсия) от высоты (в метрах) над уровнем моря.

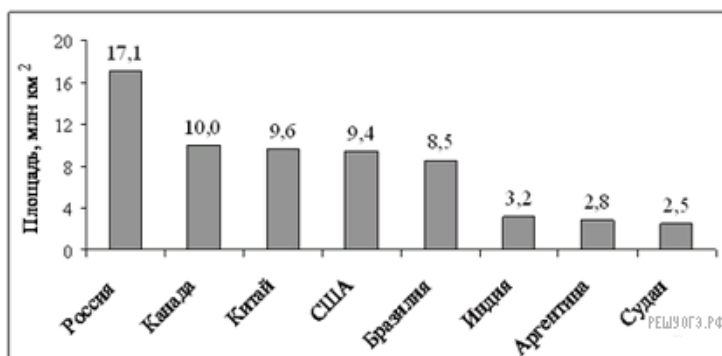


Определите по графику, на сколько градусов температура на высоте 200 метров выше, чем на высоте 650 метров.

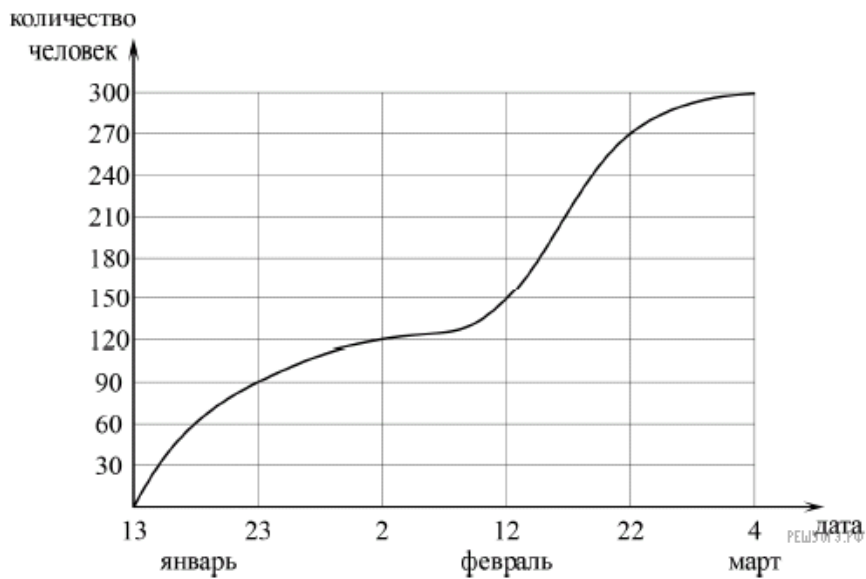
9. На диаграмме представлены некоторые из крупнейших по площади территории стран мира. Во сколько примерно раз площадь США больше площади Судана? (Ответ округлите до целых.)



10. На диаграмме представлены некоторые из крупнейших по площади территории стран мира. Во сколько примерно раз площадь России больше площади США? (Ответ округлите до целых.)

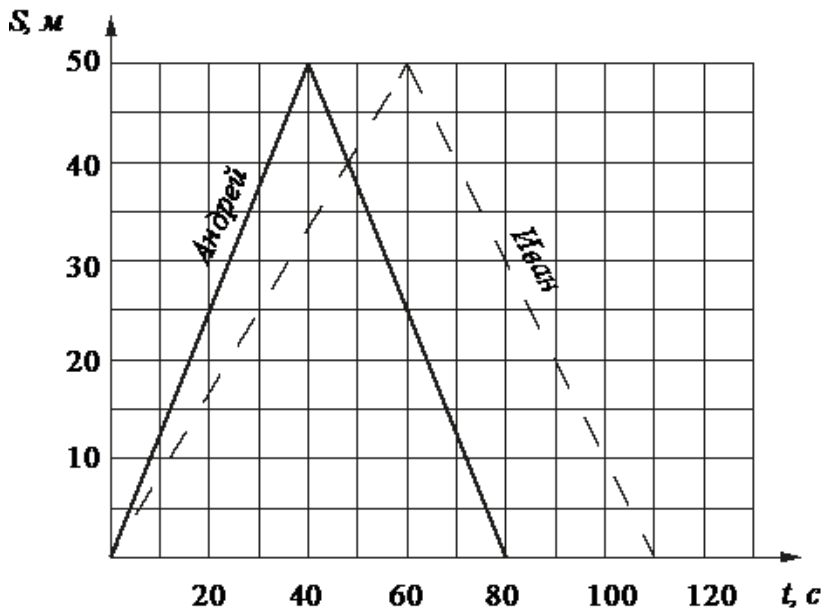


11. На графике показано, сколько человек зарегистрировалось с 13 января по 4 марта 2013 года в качестве участников конференции. По горизонтали указаны числа месяцев, а по вертикали — количество человек.

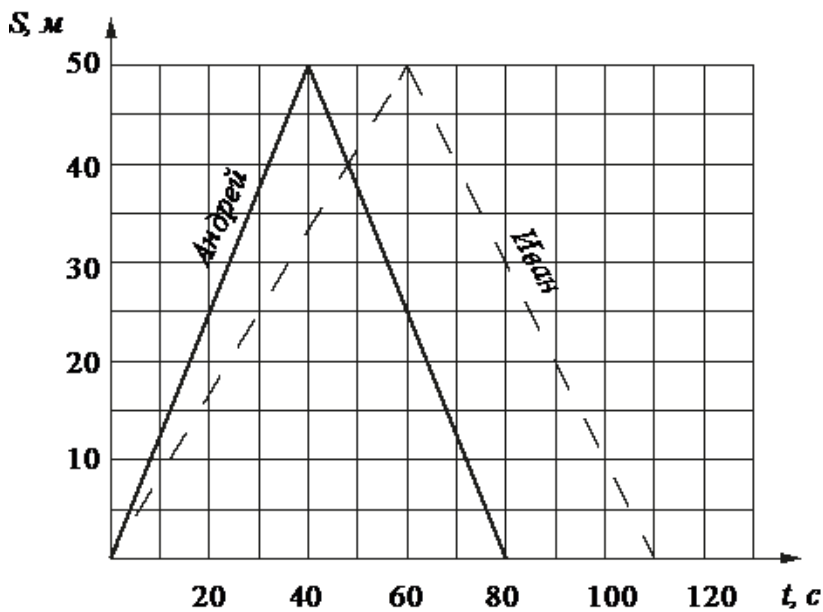


Во сколько раз возросло количество зарегистрировавшихся с 23 января по 22 февраля?

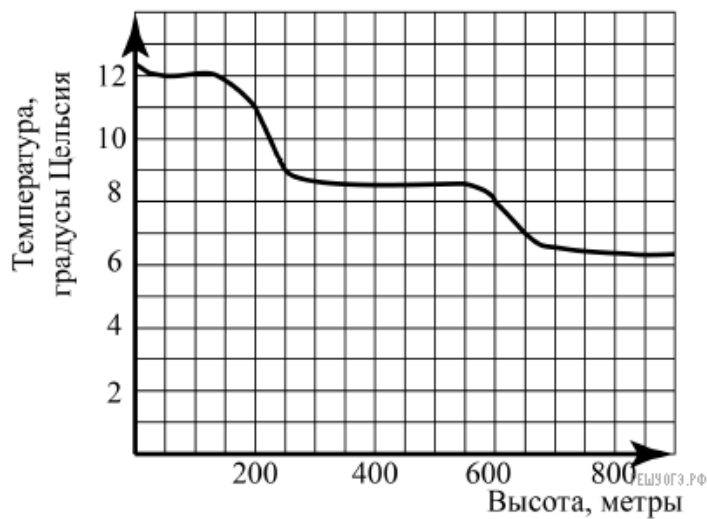
12. Андрей и Иван соревновались в 50-метровом бассейне на дистанции 100 м. Графики их заплывов показаны на рисунке. По горизонтальной оси отложено время, а по вертикальной — расстояние пловца от старта. Кто выиграл соревнование? В ответе запишите, на сколько секунд он обогнал соперника.



13. Андрей и Иван соревновались в 50-метровом бассейне на дистанции 100 м. Графики их заплывов показаны на рисунке. По горизонтальной оси отложено время, а по вертикальной – расстояние пловца от старта. Кто быстрее проплыл первую половину дистанции? В ответе запишите, на сколько секунд быстрее он проплыл первую половину дистанции.

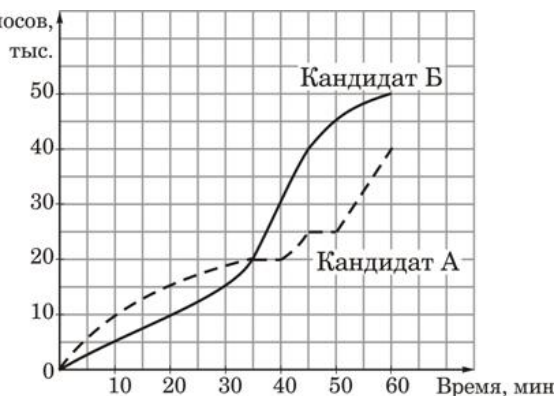


14. На рисунке изображена зависимость температуры (в градусах Цельсия) от высоты (в метрах) над уровнем моря.

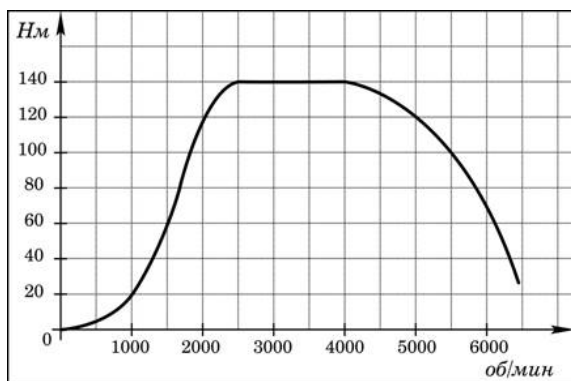


Определите по графику, на сколько градусов температура на высоте 200 метров выше, чем на высоте 650 метров.

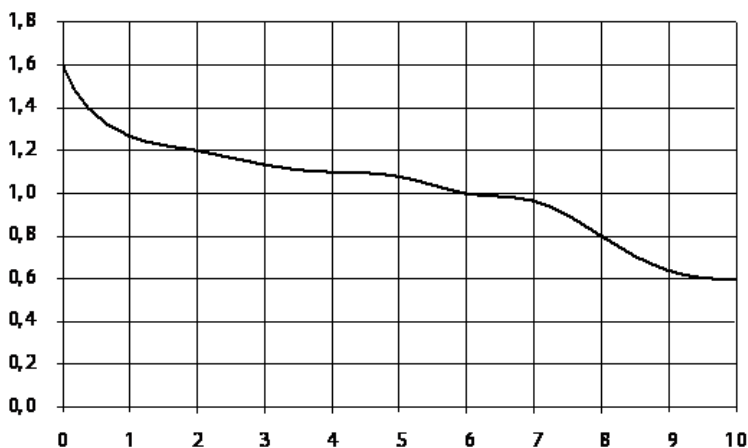
15. На графиках показано, как во время телевизионных дебатов между кандидатами А и Б телезрители голосовали за каждого из них. Сколько всего телезрителей проголосовало к 40-й минуте дебатов?



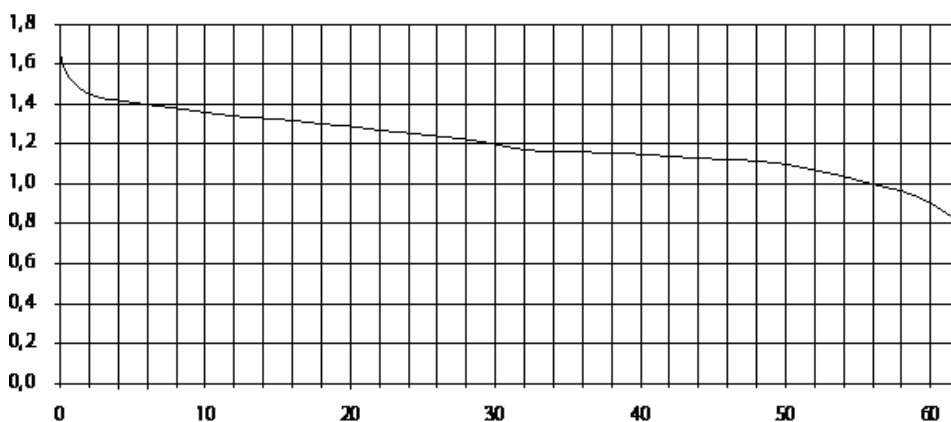
16. На графике изображена зависимость крутящего момента двигателя от числа его оборотов в минуту. На оси абсцисс откладывается число оборотов в минуту, на оси ординат — крутящий момент в Н·м. На сколько Н·м увеличился крутящий момент, если число оборотов двигателя возросло с 1000 до 1500 оборотов в минуту?



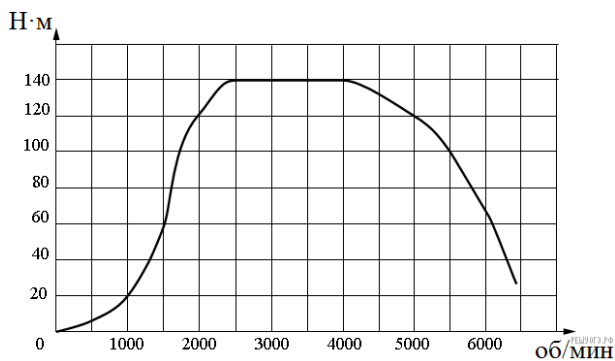
17. При работе фонарика батарейка постепенно разряжается, и напряжение в электрической цепи фонарика падает. На рисунке показана зависимость напряжения в цепи от времени работы фонарика. На горизонтальной оси отмечается время работы фонарика в часах, на вертикальной оси — напряжение в вольтах. Определите по рисунку, на сколько вольт упадет напряжение за 2 часа с начала работы фонарика.



18. При работе фонарика батарейка постепенно разряжается, и напряжение в электрической цепи фонарика падает. На рисунке показана зависимость напряжения в цепи от времени работы фонарика. На горизонтальной оси отмечается время работы фонарика в часах, на вертикальной оси — напряжение в вольтах. Определите по рисунку, на сколько вольт упадет напряжение с 6-го по 30-й час работы фонарика.



19. На графике изображена зависимость крутящего момента двигателя от числа его оборотов в минуту. На оси абсцисс откладывается число оборотов в минуту, на оси ординат — крутящий момент в Н·м. На сколько оборотов в минуту должно ускориться вращение, чтобы крутящий момент вырос с 20 Н·м до 120 Н·м?



20. На рисунке показано, как изменялась температура воздуха на протяжении одних суток. По горизонтали указано время суток, по вертикали — значение температуры в градусах Цельсия. Найдите разность между наименьшим и наибольшим значениями температуры. Ответ дайте в градусах Цельсия.

