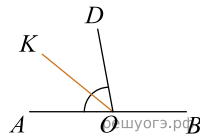
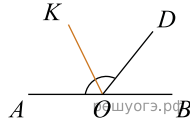


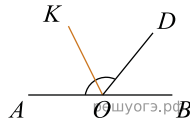
1. Найдите величину угла DOK , если OK — биссектриса угла AOD , $\angle DOB = 108^\circ$. Ответ дайте в градусах.



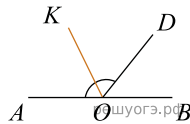
2. Найдите величину угла AOK , если OK — биссектриса угла AOD , $\angle DOB = 64^\circ$. Ответ дайте в градусах.



3. Найдите величину угла AOK , если OK — биссектриса угла AOD , $\angle DOB = 52^\circ$. Ответ дайте в градусах.



4. Найдите величину угла DOK , если OK — биссектриса угла AOD , $\angle DOB = 64^\circ$. Ответ дайте в градусах.



5. Найдите величину угла DOK , если OK — биссектриса угла AOD , $\angle DOB = 52^\circ$. Ответ дайте в градусах.

