



На каком рисунке изображено множество решений неравенства $x^2 - 4x + 3 \geq 0$?
В ответе укажите номер правильного варианта.


1)



2)



3)



4)

