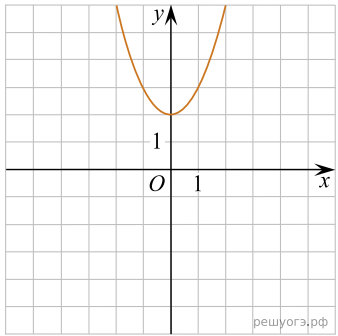
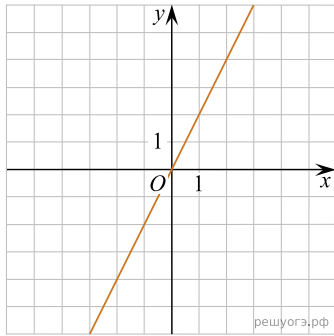


Установите соответствие между графиками функций и формулами, которые их задают.

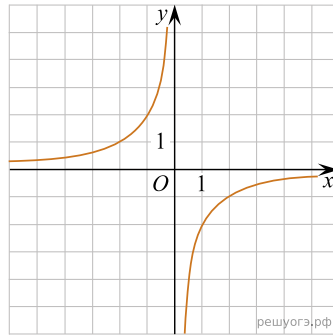
А)



Б)



В)



1) $y = x^2 + 2$

2) $y = -\frac{2}{x}$

3) $y = 2x$

Запишите в ответ цифры, расположив их в порядке, соответствующем буквам:

А	Б	В