

Установите соответствие между функциями и их графиками.

ФУНКЦИИ

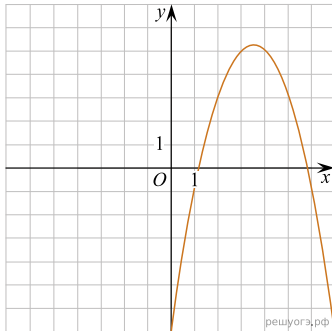
А) $y = -\frac{1}{5}x - 5$

Б) $y = -x^2 + 7x - 7$

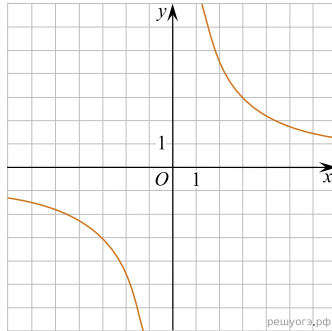
В) $y = \frac{9}{x}$

ГРАФИКИ

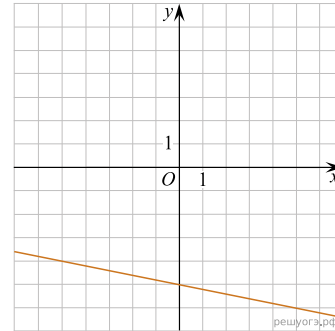
1)



2)



3)



Запишите в ответ цифры, расположив их в порядке, соответствующем буквам:

А	Б	В