
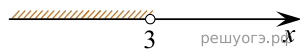


На каком рисунке изображено решение неравенства  $x^2 < 9$ ?  
 В ответе укажите номер правильного варианта.


1)



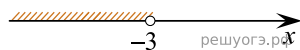
2)



3)



4)



- 1) 1
- 2) 2
- 3) 3
- 4) 4