

Установите соответствие между функциями и их графиками.

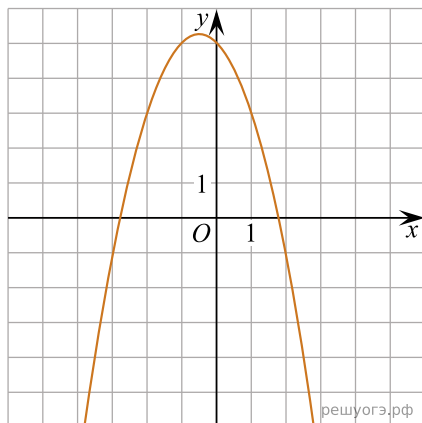
Функции

А) $y = -x^2 - x + 5$

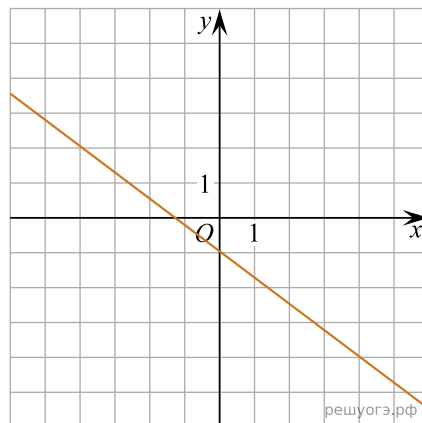
Б) $y = -\frac{3}{4}x - 1$

В) $y = -\frac{12}{x}$

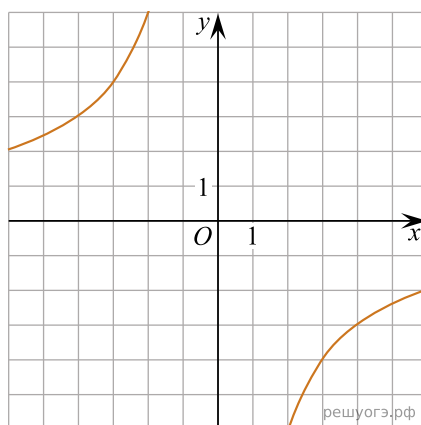
Графики



1)



2)



3)

Запишите в ответ цифры, расположив их в порядке, соответствующем буквам:

| | | |
|---|---|---|
| А | Б | В |
| | | |