

Установите соответствие между функциями и их графиками.

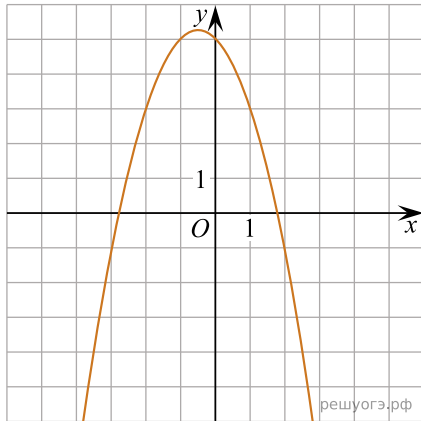
**Функции**

А)  $y = -x^2 - x + 5$

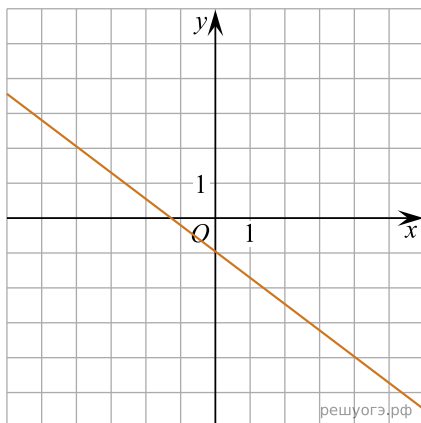
Б)  $y = -\frac{3}{4}x - 1$

В)  $y = -\frac{12}{x}$

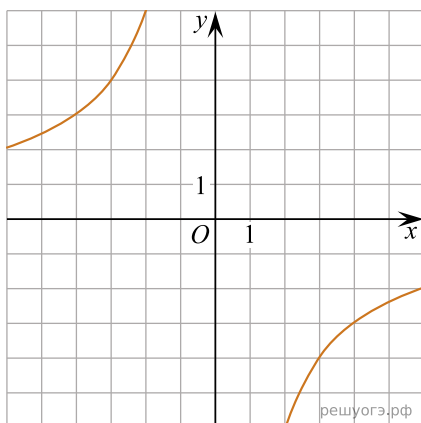
**Графики**



1)



2)



3)

Запишите в ответ цифры, расположив их в порядке, соответствующем буквам:

А	Б	В