

Установите соответствие между функциями и их графиками.

ФУНКЦИИ

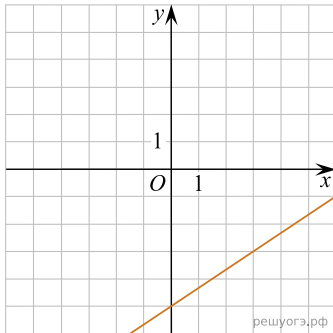
А) $y = -3x^2 + 9x - 4$

Б) $y = -\frac{6}{x}$

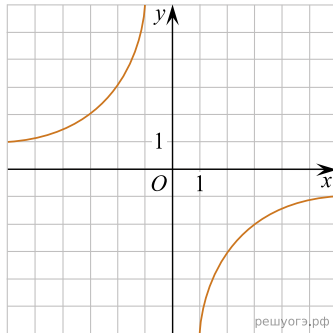
В) $y = \frac{2}{3}x - 5$

ГРАФИКИ

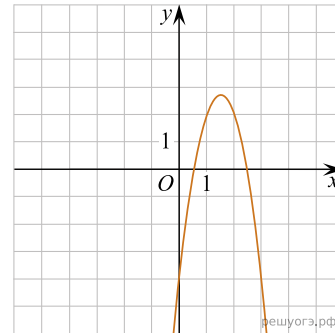
1)



2)



3)



В таблице под каждой буквой укажите соответствующий номер.

А	Б	В