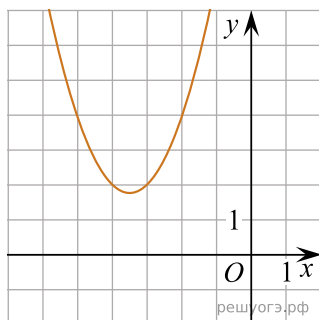
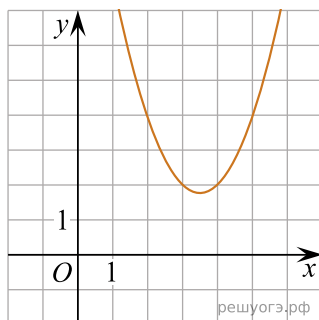


Установите соответствие между графиками функций и формулами, которые их задают.

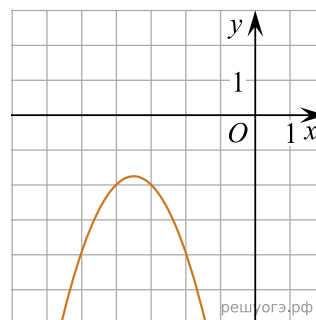
А)



Б)



В)



$$1) y = x^2 + 7x + 14 \quad 2) y = x^2 - 7x + 14$$

$$3) y = -x^2 - 7x - 14$$

Ответ укажите в виде последовательности цифр без пробелов и запятых в указанном порядке.

А	Б	В