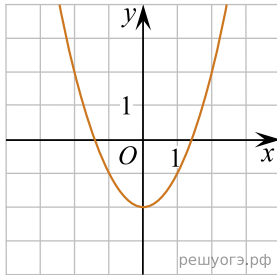


Установите соответствие между функциями и их графиками.

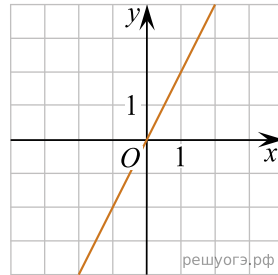
ФУНКЦИИ

1)  $y = -\frac{2}{x}$     2)  $y = 2x$     3)  $y = x^2 - 2$

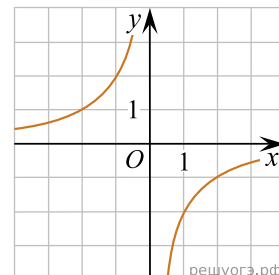
ГРАФИКИ



А)



Б)



В)

Запишите в ответ цифры, расположив их в порядке, соответствующем буквам:

А	Б	В