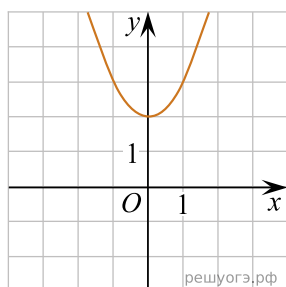


Установите соответствие между графиками функций и формулами, которые их задают.

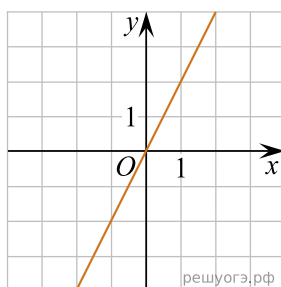
ФОРМУЛЫ

1) $y = x^2 + 2$ 2) $y = -\frac{2}{x}$ 3) $y = 2x$

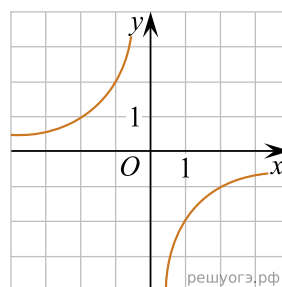
ГРАФИКИ



А)



Б)



В)

Ответ укажите в виде последовательности цифр без пробелов и запятых в указанном порядке.

А	Б	В