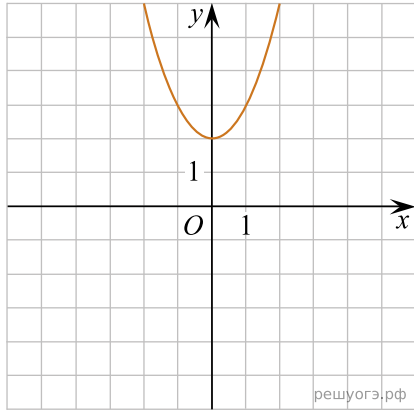


Установите соответствие между функциями и их графиками.

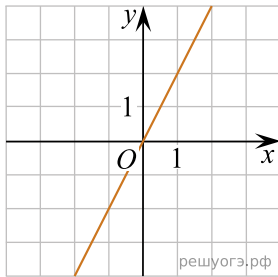
ФУНКЦИИ

- 1) $y = x^2 + 2$ 2) $y = -\frac{2}{x}$ 3) $y = 2x$

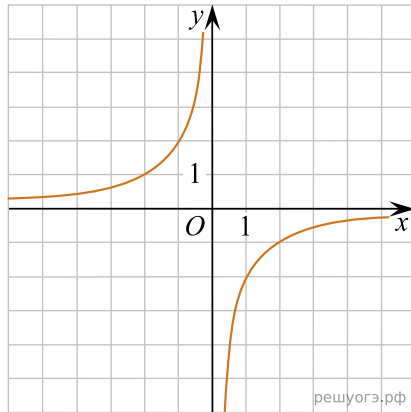
ГРАФИКИ



А)



Б)



В)

Запишите в ответ цифры, расположив их в порядке, соответствующем буквам:

А	Б	В