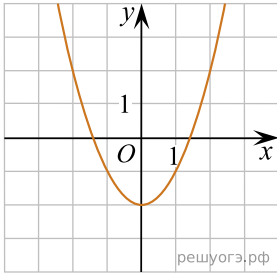


Установите соответствие между функциями и их графиками.

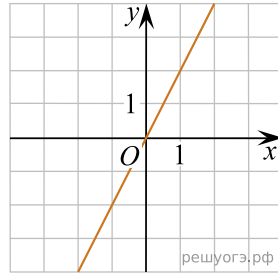
ФУНКЦИИ

1) $y = -\frac{2}{x}$ 2) $y = 2x$ 3) $y = x^2 - 2$

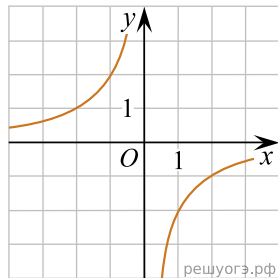
ГРАФИКИ



А)



Б)



В)

Запишите в ответ цифры, расположив их в порядке, соответствующем буквам:

А	Б	В