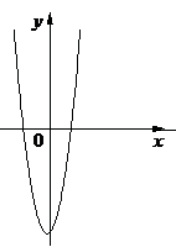
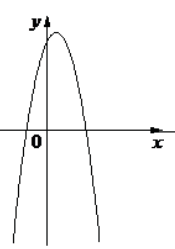
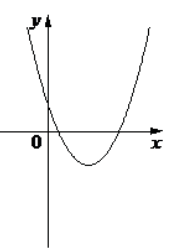


На рисунках изображены графики функций вида $y = ax^2 + bx + c$. Установите соответствие между графиками функций и знаками коэффициентов a и c .

ГРАФИКИ		
<p>А) </p>	<p>Б) </p>	<p>В) </p>
КОЭФФИЦИЕНТЫ		
<p>а) $a > 0, c > 0$</p>	<p>б) $a > 0, c < 0$</p>	<p>в) $a < 0, c > 0$</p>