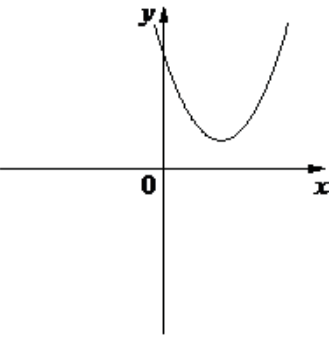
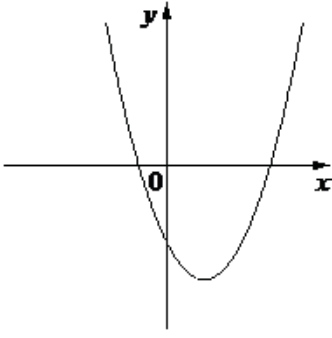
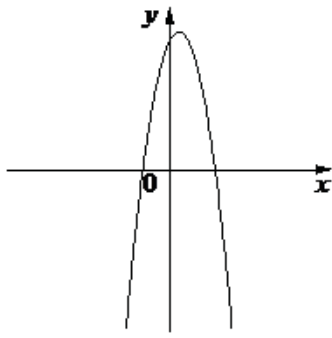


На рисунках изображены графики функций вида $y = ax^2 + bx + c$. Установите соответствие между графиками функций и знаками коэффициентов a и c .

<u>ГРАФИКИ</u>			
А)		Б)	
В)			
<u>КОЭФИЦИЕНТЫ</u>			
1)	$a < 0, c > 0$	2)	$a > 0, c < 0$
3)	$a > 0, c > 0$		