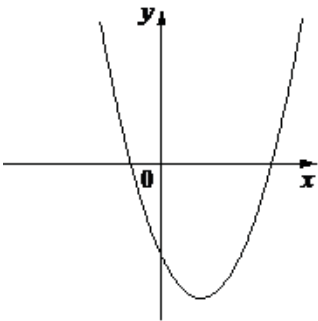
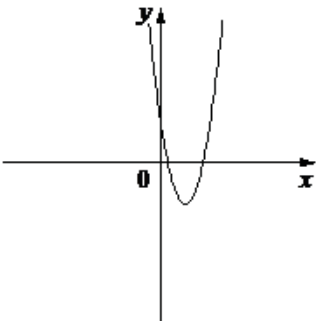
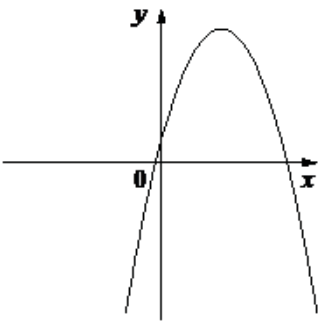


На рисунках изображены графики функций вида $y = ax^2 + bx + c$. Установите соответствие между знаками коэффициентов a и c и графиками функций.

КОЭФИЦИЕНТЫ

А)	$a > 0, c < 0$	Б)	$a > 0, c > 0$	В)	$a < 0, c > 0$
----	----------------	----	----------------	----	----------------

ГРАФИКИ

1)		2)		3)	
----	---	----	---	----	---