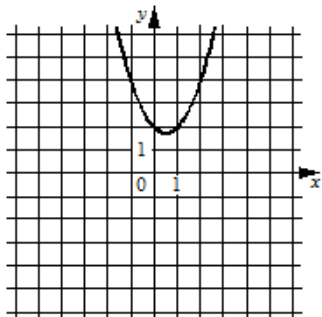


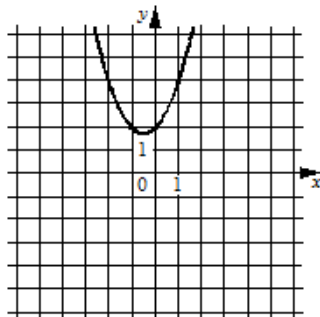
Установите соответствие между графиками функций и формулами, которые их задают.

**ГРАФИКИ**

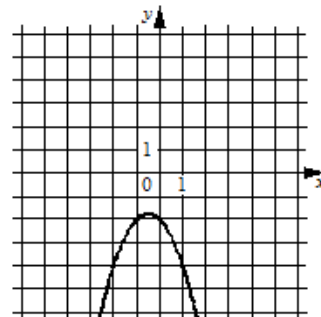
А)



Б)



В)



**ФОРМУЛЫ**

1)  $y = -x^2 - x - 2$

2)  $y = x^2 + x + 2$

3)  $y = x^2 - x + 2$