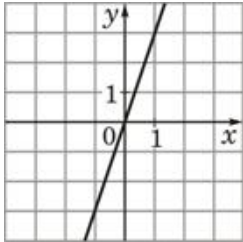
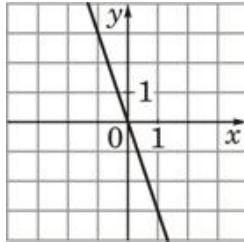
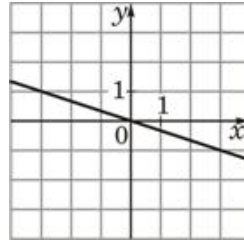


Установите соответствие между функциями и их графиками.

**ФУНКЦИИ**

А)	$y = -3x$	Б)	$y = 3x$	В)	$y = -\frac{1}{3}x$
----	-----------	----	----------	----	---------------------

**ГРАФИКИ**

1)		2)		3)	
----	---	----	---	----	--