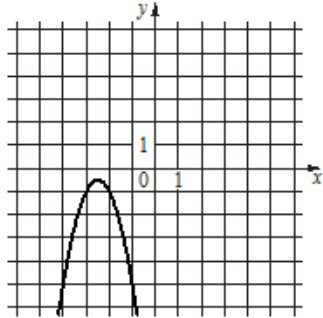
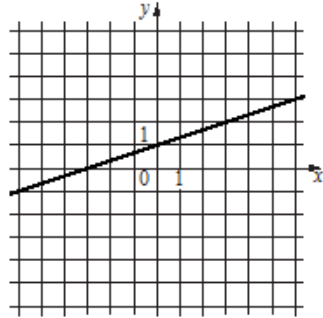



Установите соответствие между функциями и их графиками.

ФУНКЦИИ

А)	$y = -\frac{9}{x}$	Б)	$y = \frac{1}{3}x + 1$	В)	$y = -2x^2 - 10$
----	--------------------	----	------------------------	----	------------------

ГРАФИКИ

1)		2)		3)	
----	---	----	---	----	--