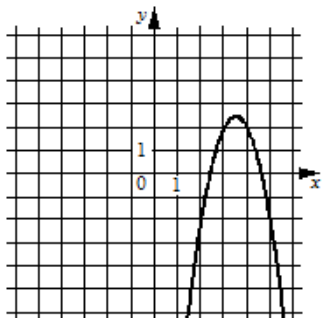


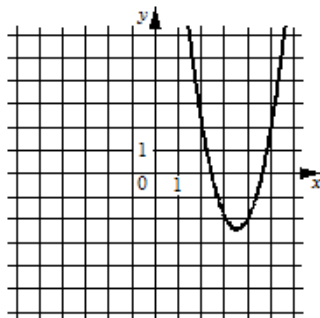
Установите соответствие между графиками функций и формулами, которые их задают.

ГРАФИКИ

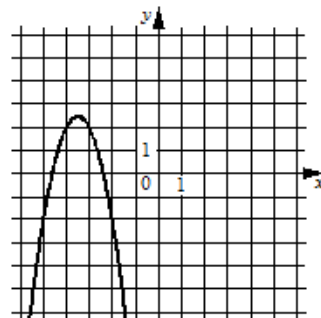
А)



Б)



В)



ФОРМУЛЫ

1) $y = 2x^2 - 14x + 22$

2) $y = -2x^2 - 14x - 22$

3) $y = -2x^2 + 14x - 22$