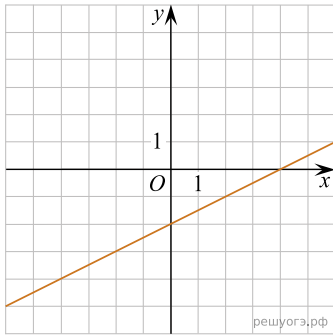
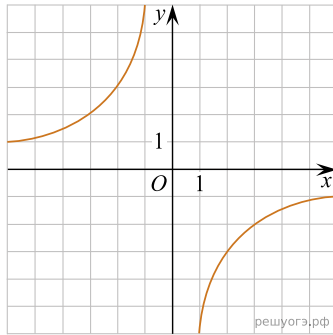


Установите соответствие между графиками функций и формулами, которые их задают.

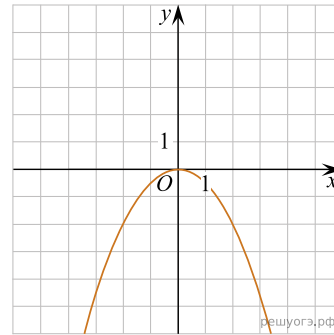
А)



Б)



В)



- 1) $y = -\frac{6}{x}$
- 2) $y = -\frac{1}{2}x^2$
- 3) $y = \frac{1}{2}x - 2$

Запишите в ответ цифры, расположив их в порядке, соответствующем буквам:

А	Б	В