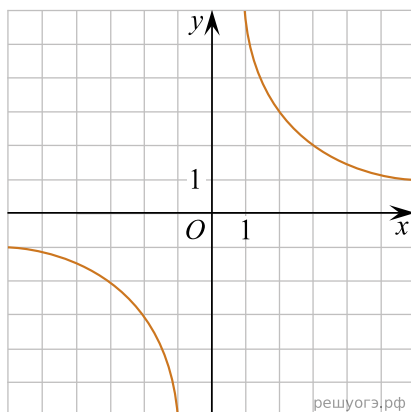


Установите соответствие между графиками функций и формулами, которые их задают.

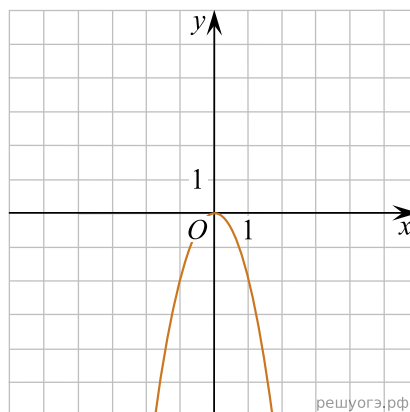
ФУНКЦИИ

1)  $y = \frac{6}{x}$     2)  $y = -2x + 4$     3)  $y = -2x^2$

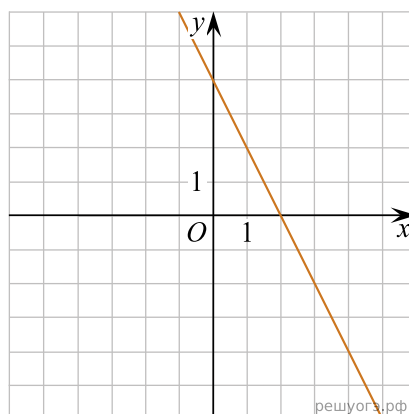
ГРАФИКИ



А)



Б)



В)

Запишите в ответ цифры, расположив их в порядке, соответствующем буквам:

А	Б	В