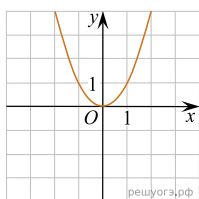


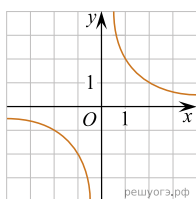
Вариант № 360236

Установите соответствие между графиками функций и формулами, которые их задают.

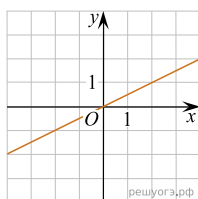
А)



Б)



В)



- 1)  $y = x^2$
- 2)  $y = \frac{x}{2}$
- 3)  $y = \frac{2}{x}$

Ответ укажите в виде последовательности цифр без пробелов и запятых в указанном порядке.

А	Б	В