

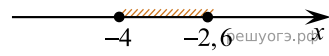
Решите систему неравенств $\begin{cases} x + 2,6 \leq 0, \\ x + 5 \geq 1. \end{cases}$

На каком рисунке изображено множество ее решений?

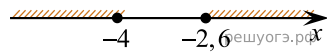
1)



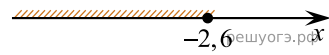
2)



3)



4)



- 1) 1
- 2) 2
- 3) 3
- 4) 4