

Установите соответствие между функциями и их графиками.

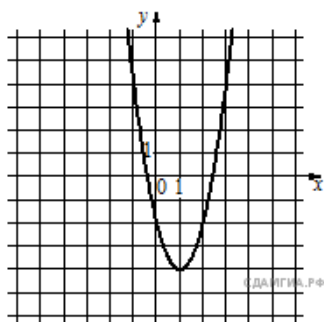
**Функции**

1)  $y = -2x^2 - 4x + 2$

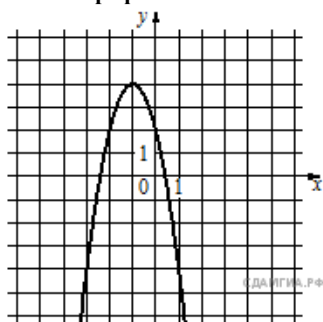
2)  $y = 2x^2 + 4x - 2$

3)  $y = 2x^2 - 4x - 2$

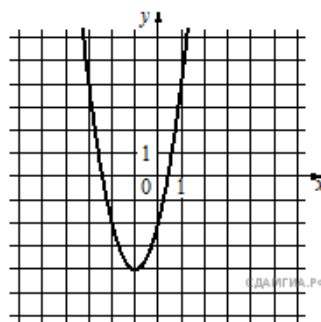
**Графики**



А)



Б)



В)

Запишите в ответ цифры, расположив их в порядке, соответствующем буквам:

| А | Б | В |
|---|---|---|
|   |   |   |