

Установите соответствие между функциями и их графиками.

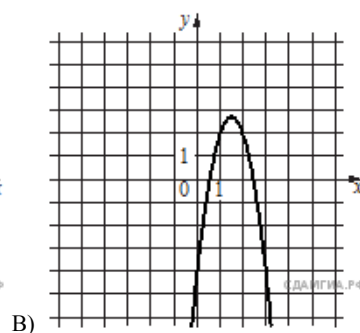
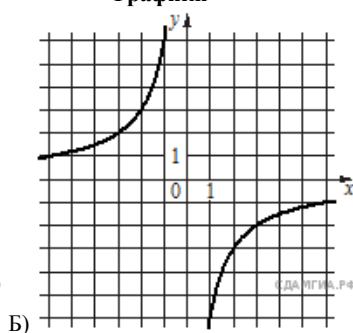
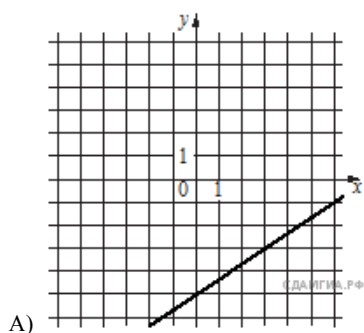
Функции

1) $y = -3x^2 + 9x - 4$

2) $y = -\frac{6}{x}$

3) $y = \frac{2}{3}x - 5$

Графики



Запишите в ответ цифры, расположив их в порядке, соответствующем буквам:

А	Б	В