

Установите соответствие между функциями и их графиками.

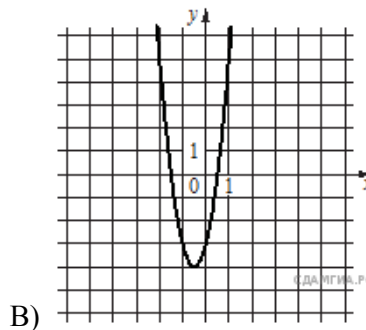
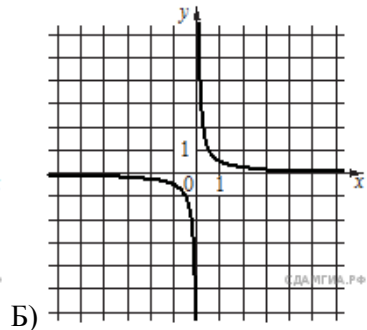
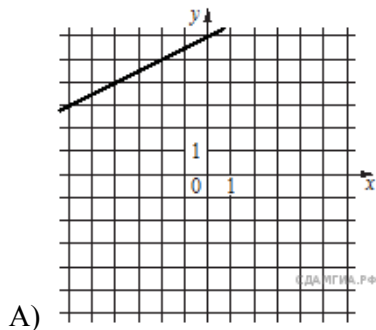
Функции

1) $y = 4x^2 + 4x - 3$

2) $y = \frac{1}{2}x + 6$

3) $y = \frac{1}{2x}$

Графики



Запишите в ответ цифры, расположив их в порядке, соответствующем буквам:

А	Б	В