

Установите соответствие между функциями и их графиками.

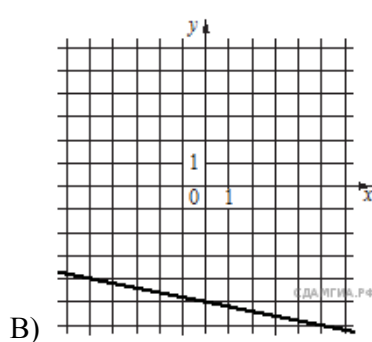
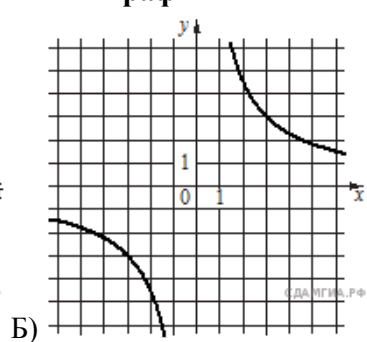
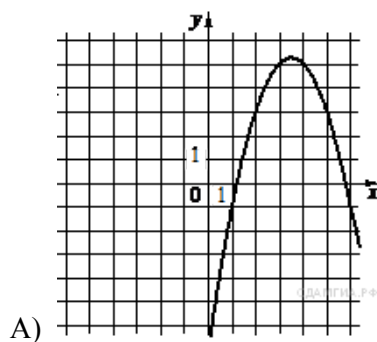
**Функции**

1)  $y = -\frac{1}{5}x - 5$

2)  $y = -x^2 + 7x - 7$

3)  $y = \frac{9}{x}$

**Графики**



Запишите в ответ цифры, расположив их в порядке, соответствующем буквам:

А	Б	В