

Установите соответствие между графиками функций и формулами, которые их задают.

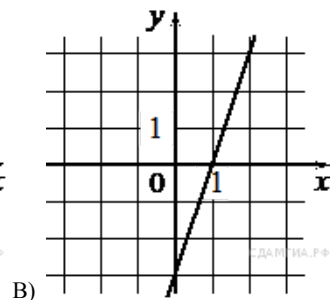
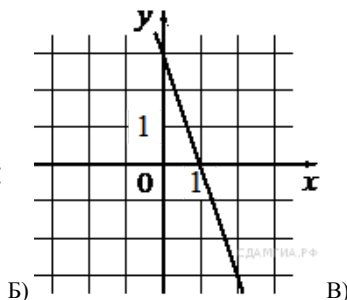
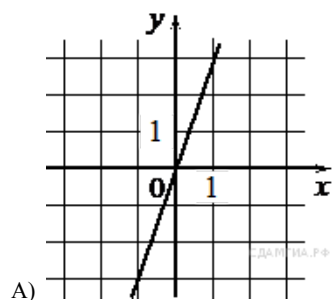
Функции

1) $y = -3x + 3$

2) $y = 3x$

3) $y = 3x - 3$

Графики



Запишите в ответ цифры, расположив их в порядке, соответствующем буквам:

А	Б	В