

Вариант № 356061

На рисунке изображены графики функций вида $y = kx + b$. Установите соответствие между знаками коэффициентов k и b и графиками функций.

Коэффициенты

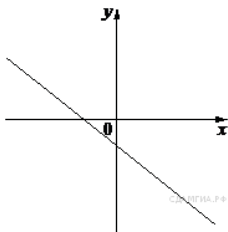
А) $k < 0, b < 0$

Б) $k > 0, b > 0$

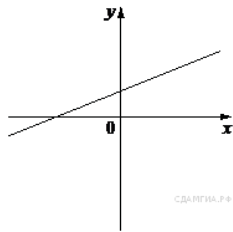
В) $k < 0, b > 0$

Графики

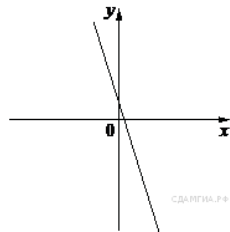
1)



2)



3)



Запишите в ответ цифры, расположив их в порядке, соответствующем буквам:

А	Б	В