

На рисунке изображены графики функций вида  $y = kx + b$ . Установите соответствие между знаками коэффициентов  $k$  и  $b$  и графиками функций.

**Коэффициенты**

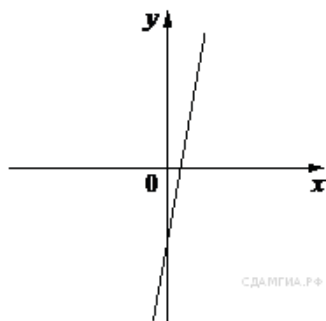
А)  $k > 0, b > 0$

Б)  $k < 0, b > 0$

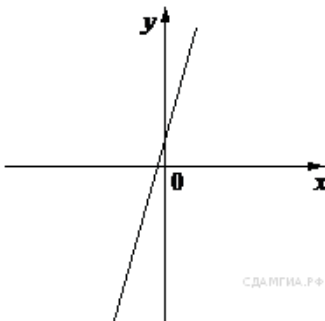
В)  $k > 0, b < 0$

**Графики**

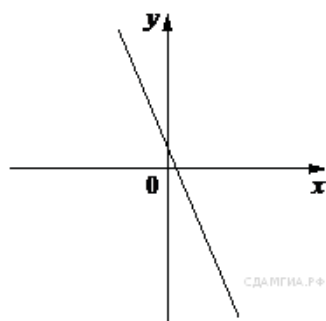
1)



2)



3)



Запишите в ответ цифры, расположив их в порядке, соответствующем буквам:

А	Б	В