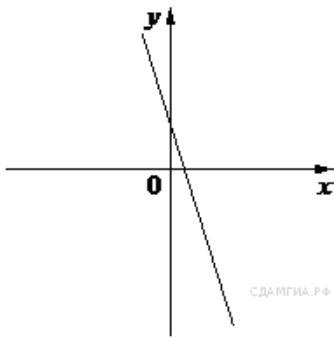


На рисунке изображены графики функций вида $y = kx + b$. Установите соответствие между графиками функций и знаками коэффициентов k и b .

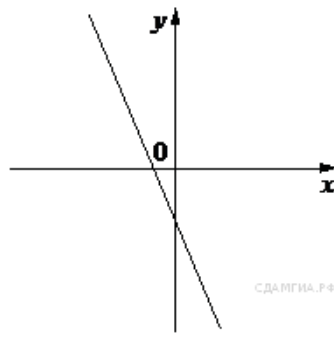
Графики

А)



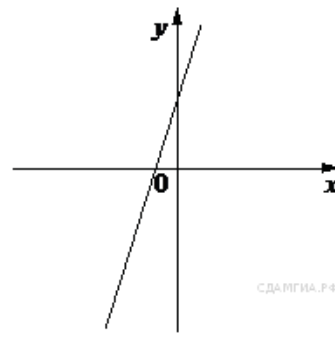
СДАМГИА.РФ

Б)



СДАМГИА.РФ

В)



СДАМГИА.РФ

Коэффициенты

1) $k < 0, b < 0$

2) $k > 0, b > 0$

3) $k < 0, b > 0$

Запишите в ответ цифры, расположив их в порядке, соответствующем буквам:

А	Б	В