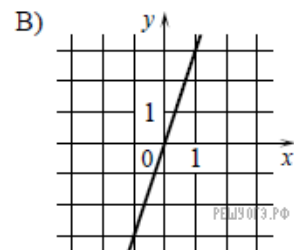
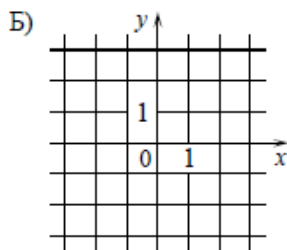
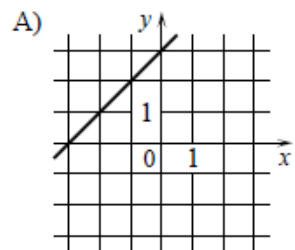


Установите соответствие между графиками функций и формулами, которые их задают:

ГРАФИКИ



ФОРМУЛЫ

1)  $y = x + 3$

2)  $y = 3$

3)  $y = 3x$