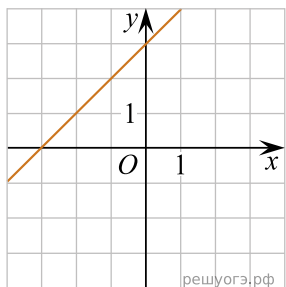


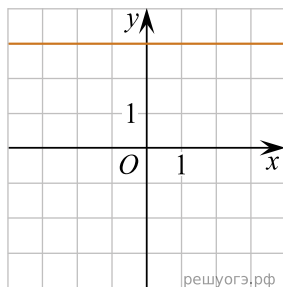
Установите соответствие между графиками функций и формулами, которые их задают:

ГРАФИКИ

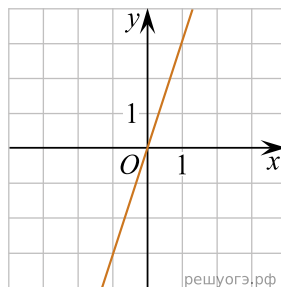
А)



Б)



В)



ФОРМУЛЫ

1) $y = x + 3$

2) $y = 3$

3) $y = 3x$