

Установите соответствие между функциями и их графиками.

ФУНКЦИИ

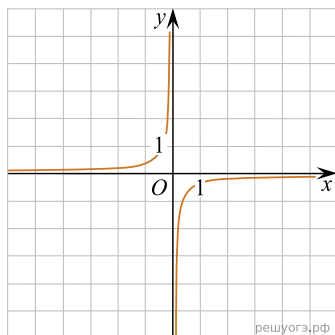
А) $y = \frac{3}{x}$

Б) $y = -\frac{3}{x}$

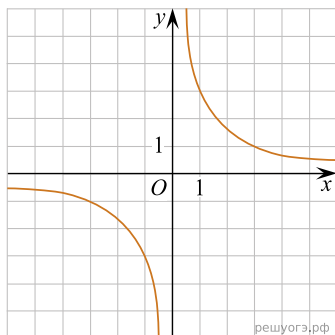
В) $y = -\frac{1}{3x}$

ГРАФИКИ

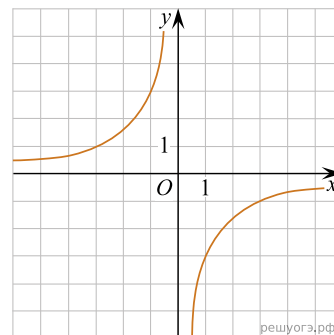
1)



2)



3)



Запишите в ответ цифры, расположив их в порядке, соответствующем буквам:

А	Б	В