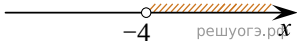
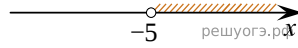


На каком рисунке изображено множество решений неравенства  $x^2 + 9x + 20 > 0$ ?


1)



2)



3)



4)

