

Установите соответствие между функциями и их графиками.

ФУНКЦИИ

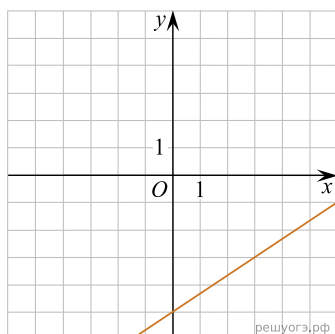
А) $y = -\frac{2}{3}x - 5$

Б) $y = \frac{2}{3}x + 5$

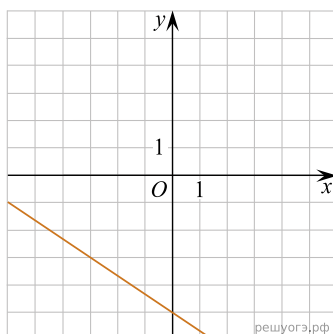
В) $y = \frac{2}{3}x - 5$

ГРАФИКИ

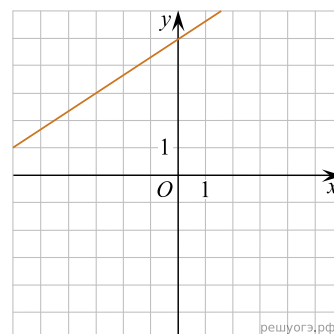
1)



2)



3)



Запишите в ответ цифры, расположив их в порядке, соответствующем буквам:

А	Б	В