



На каком рисунке изображено множество решений неравенства $5x - x^2 \geq 0$?

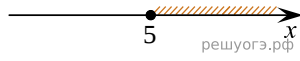
1)



2)



3)



4)

