

Установите соответствие между функциями и их графиками.

**ФУНКЦИИ**

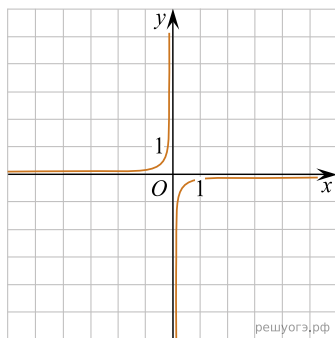
А)  $y = -\frac{10}{x}$

Б)  $y = \frac{10}{x}$

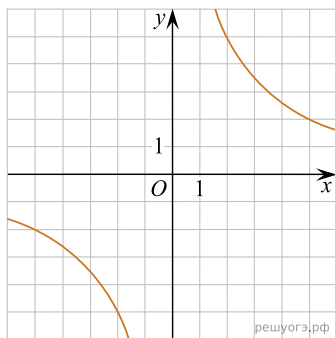
В)  $y = -\frac{1}{10x}$

**ГРАФИКИ**

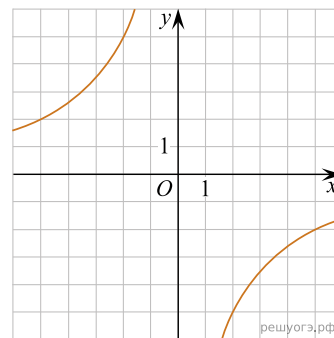
1)



2)



3)



Запишите в ответ цифры, расположив их в порядке, соответствующем буквам:

А	Б	В