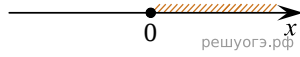



На каком рисунке изображено множество решений неравенства $8x - x^2 \leq 0$?

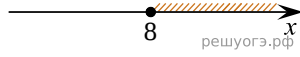
1)



2)



3)



4)

