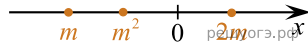
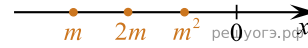


Известно, что число m отрицательное. На каком из рисунков точки с координатами $0, m, 2m, m^2$ расположены на координатной прямой в правильном порядке?

1)



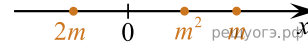
2)



3)



4)



В ответе укажите номер правильного варианта.