

Установите соответствие между функциями и их графиками.

ФУНКЦИИ

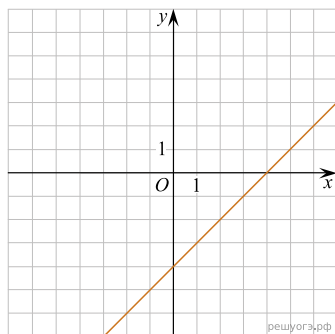
А) $y = x - 4$

Б) $y = x^2 - 7x + 16$

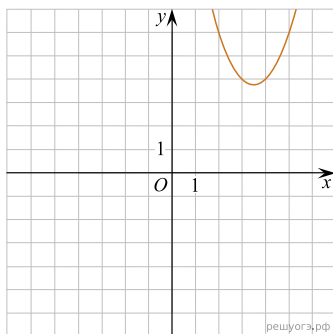
В) $y = -\frac{4}{x}$

ГРАФИКИ

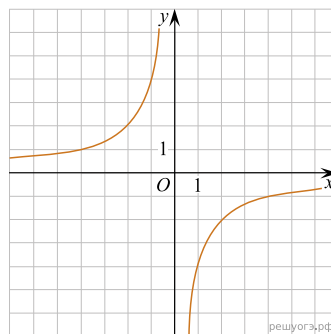
1)



2)



3)



Запишите в ответ цифры, расположив их в порядке, соответствующем буквам:

А	Б	В