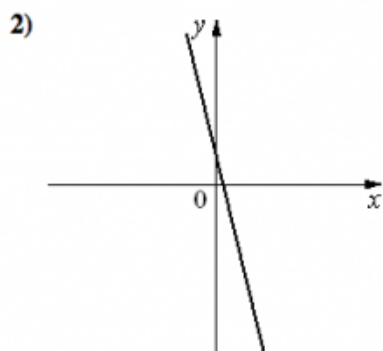
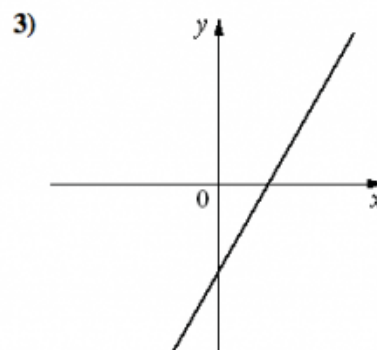
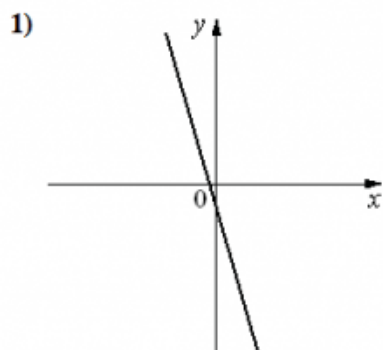


На рисунках изображены графики функций вида $y = kx + b$. Установите соответствие между знаками коэффициентов k и b и графиками функций.

КОЭФФИЦИЕНТЫ

- А) $k < 0, b < 0$
- Б) $k > 0, b < 0$
- В) $k < 0, b > 0$

ГРАФИКИ



СДАМГИА.РФ

Запишите в ответ цифры, расположив их в порядке, соответствующем буквам:

А	Б	В