

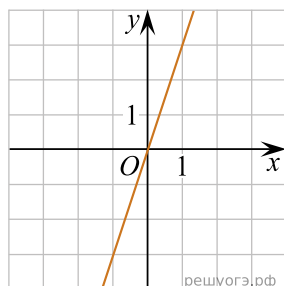
Установите соответствие между функциями и их графиками.

ФУНКЦИИ

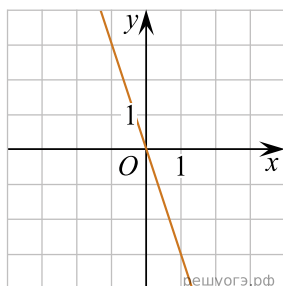
- А) $y = -3x$
- Б) $y = 3x$
- В) $y = -\frac{1}{3}x$

ГРАФИКИ

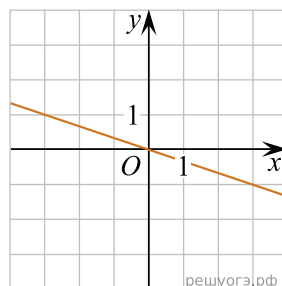
1)



2)



3)



В таблице под каждой буквой укажите соответствующий номер.

А	Б	В