

Установите соответствие между функциями и их графиками.

ФУНКЦИИ

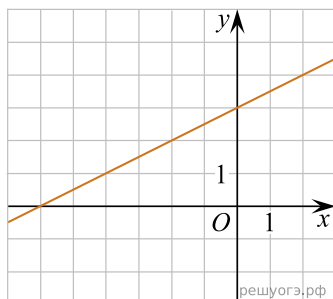
А) $y = \frac{1}{2}x + 3$

Б) $y = -\frac{1}{2}x + 3$

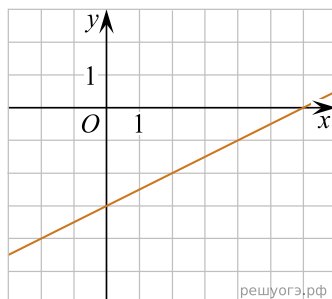
В) $y = \frac{1}{2}x - 3$

ГРАФИКИ

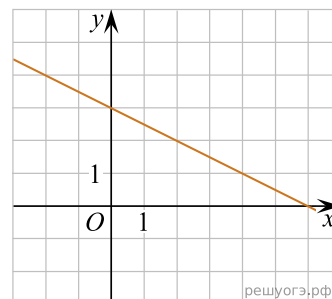
1)



2)



3)



В таблице под каждой буквой укажите соответствующий номер.

Запишите в ответ цифры, расположив их в порядке, соответствующем буквам:

А	Б	В