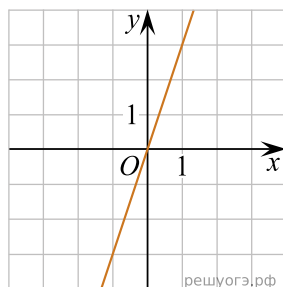


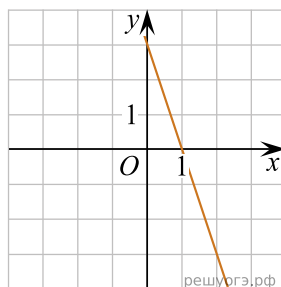
Установите соответствие между графиками функций и формулами, которые их задают.

ГРАФИКИ ФУНКЦИЙ

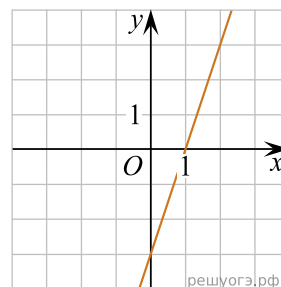
А)



Б)



В)



ФОРМУЛЫ

1) $y = -3x + 3$

2) $y = 3x$

3) $y = 3x - 3$

В таблице под каждой буквой укажите соответствующий номер.